

تاریخ.....

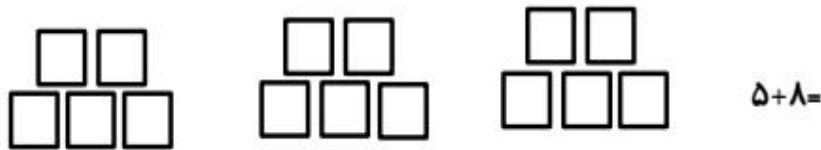
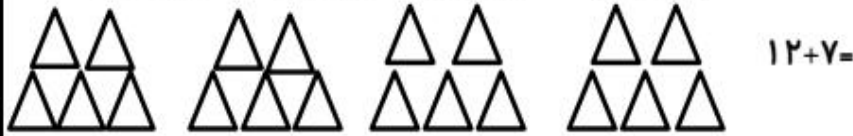
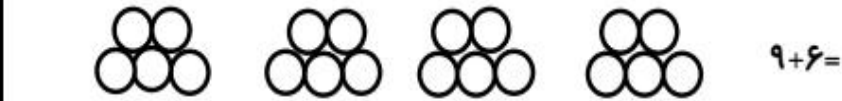
یا انیس النفوس

دبستان.....

آزمون ریاضی

نام و نام خانوادگی:

۱- با استفاده از دو رنگ مختلف جواب جمع ها را پیدا کنید.



۲- برای عدد های زیر چوب خط بکشید.



۳- جاهای خالی را با عدد مناسب پر کنید.

۱۹ - ..... - ۱۶ - ..... - ..... - ..... - ۱۱ - ..... - ۹ - .....

۴- برای هر مسئله یک شکل ساده بکشید و جواب به دست آمده را روی محور نشان دهید.

۷ ماهی کوچک در تنگ آب بود . ۳ ماهی دیگر به آن اضافه کردیم . حالا چند ماهی در تنگ است؟

.....



رضا ۹ بادکنک داشت ۵ تا از بادکنک ها به هوا رفت . چند تا بادکنک مانده است؟

.....



۵- جواب جمع های زیر را با استفاده از چوب خط به دست آورید.



$$7 + 8 = \dots\dots\dots$$



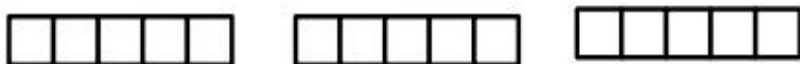
$$9 + 9 = \dots\dots\dots$$

۶- کامل کنید.

$$10 - 20 - 30 - \dots\dots\dots$$

$$\dots\dots\dots - 70 - 80 - 90$$

۷- با رنگ کردن چینه ها حاصل جمع را به دست آورید.



$$4 + 2 + 5 + 3 =$$

۸- جدول را کامل کن.

شکل	چوب خط	عدد	جدول				
			<table border="1"> <tr> <td>ده تایی</td> <td>یکی</td> </tr> <tr> <td></td> <td></td> </tr> </table>	ده تایی	یکی		
ده تایی	یکی						
		۱۹	<table border="1"> <tr> <td>ده تایی</td> <td>یکی</td> </tr> <tr> <td></td> <td></td> </tr> </table>	ده تایی	یکی		
ده تایی	یکی						

۹- جواب جمع و تفریق های زیر را به دست آورید.

$$40 + 30 = \dots\dots\dots$$

$$60 - 20 = \dots\dots\dots$$

$$50 + 40 = \dots\dots\dots$$

$$40 - 10 = \dots\dots\dots$$

۱۰- الگوی اعداد را ادامه بدهید. ۲ - ۴ - ۶ - ۸ - ۱۰ - .....

۰ - ۳ - ۶ - ۹ - .....

(فرزندم کوشش کن که امروز را با دستهایت زیبا سازی.)