
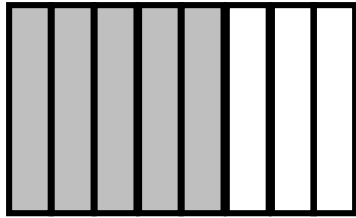
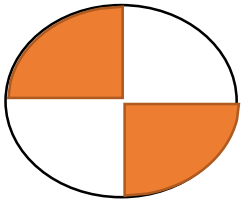


۱. اعداد را روی محور نشان دهید. و سپس آن را به صورت عدد مخلوط بنویسید

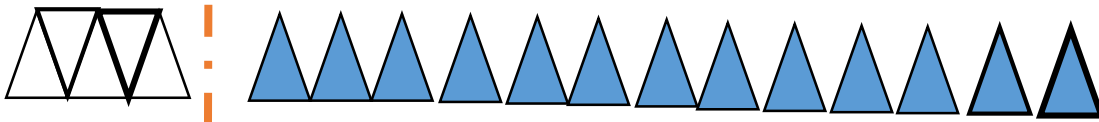
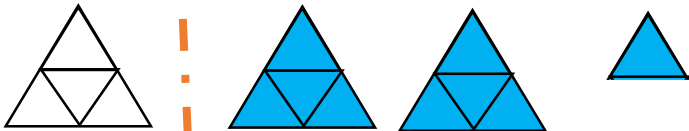
الف) $\frac{2}{5}$ مانده به عدد ۳

ب) $\frac{2}{3}$ بعد از عدد ۴

۲. چه کسری از شکل ها رنگ شده است؟



۳. بنا به واحد، مقدار هر کسر را بنویسید.

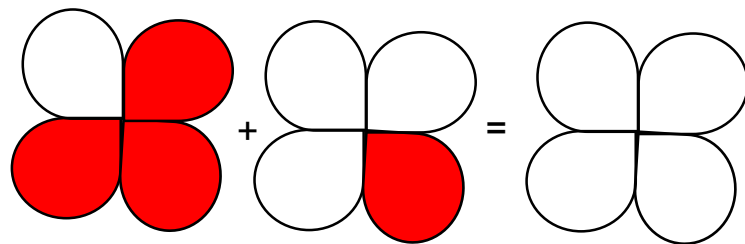
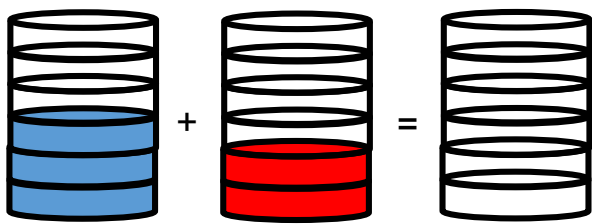


۴. برای عددهای مخلوط زیر شکل را رسم کنید.

$$1 \frac{3}{6}$$

$$1 \frac{2}{6}$$

۵. برای تصاویر زیر یک جمع و تفریق بنویسید.



۶. مزرعه‌ای را سبزیجات و $\frac{7}{5}$ آن را نخود کاشته‌اند. چه کسری از این مزرعه سبزیجات و نخود کاشته شده است؟ چه کسری باقی می‌ماند؟

۷. جمع و تفریق‌های زیر را پاسخ دهید.

$$\frac{5}{8} + \frac{2}{8} =$$

$$\frac{8}{16} + \frac{5}{4} =$$

$$\frac{9}{24} + \frac{2}{12} =$$

$$\frac{16}{5} - \frac{7}{25} =$$

$$\frac{9}{10} - \frac{3}{20} =$$

$$\frac{12}{7} - \frac{5}{6} =$$

۸. جمع و تفریق زیر را روی محور نشان دهید.

$$\frac{3}{5} + \frac{1}{5} =$$

$$\frac{3}{6} - \frac{2}{6} =$$

