


دبستان دخترانه امام حسین (ع) _ واحد 2

1_ آهن ربا قطب دارد . دفع قطب های همنام و جذب قطب های ناهمنام است.

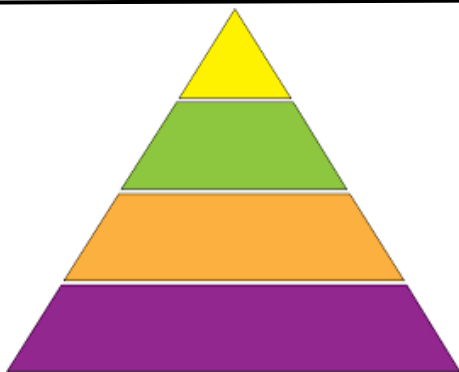


2_ اگر نیروی ما برای انجام کاری کافی نباشد از استفاده می کنیم.

3_ دلفین یک است و با تنفس می کند.

4_ سمندر یک است که هنگام راه رفتن روی زمین می خزد.

5_ هرم مواد غذایی را کامل کنید و برای هر گروه بنویسید چه تاثیری در بدن ما دارند.




.....

.....

.....

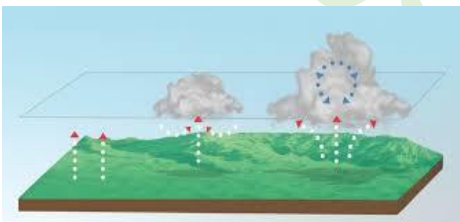
6_ با دیدن این تصویر یاد کدام تغییر حالت ماده می افتی؟ آن را تعریف کن.



.....

.....

7_ آبهای زیرزمینی چگونه تشکیل میشود؟



.....

.....

.....

8_ به چند صورت می توانیم اجسام را به حرکت درآوریم؟

.....

5_ اثرات نیرو بر جسم را نام ببرید.

.....

.....

6_ وظیفه هر یک از این قسمت های گیاه را بنویسید و بگویید انواع مختلف آن را بگویید .



برگ : ساقه :

.....

7_ نیازهای اساسی جانوران برای زنده ماندن کدام است؟



.....
.....
.....

8_ پنج گروه اصلی مهره داران را نام ببرید.

.....
.....

9_ پستانداری نام ببرید که پرواز میکند.

.....

10_ یک پستاندار تخم گذار نام ببرید.

.....

دستانت پر توان گل نازم

